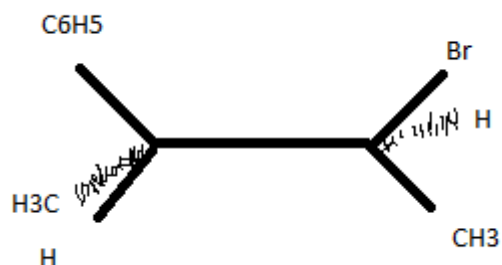


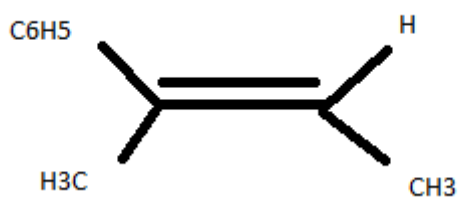
Q2 : le dérivé bromé suivant subit une réaction d'élimination en présence de OH⁻. On obtient 2 composés.



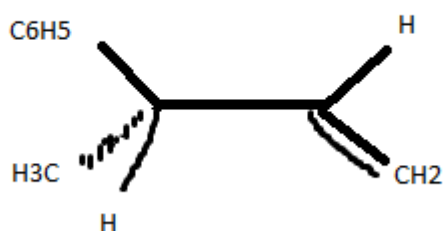
Quelles sont les propositions exactes ?

A) La réaction d'élimination est de type E1 ?

B) La réaction d'élimination est de type E2 ?



C) Le produit majoritairement formé est :



D) Un des produits formé est :

E) la réaction est stéréospécifique ?